

Английский язык

Good morning, children!

На прошлом уроке мы записали слова по теме «Одежда». К следующему уроку вам нужно будет их выучить!

Goodbye!

Математика

Выберите любые 8 заданий из представленных ниже и выполните в тетради. Ответ на каждое задание обязателен, решение обязательно, кроме заданий 4,5,6,8. В среду 15 апреля тетрадь необходимо сдать на проверку!!!

1 № [12462](#) 

Представьте в виде обыкновенной дроби число $2\frac{7}{8}$.

Ответ:

2. Тип 2 № [9651](#) 

На участке растут ели, берёзы и осины. Ели составляют четыре одиннадцатых всех деревьев на участке, а берёзы — три одиннадцатых. Сколько на участке елей, если берёз 15?

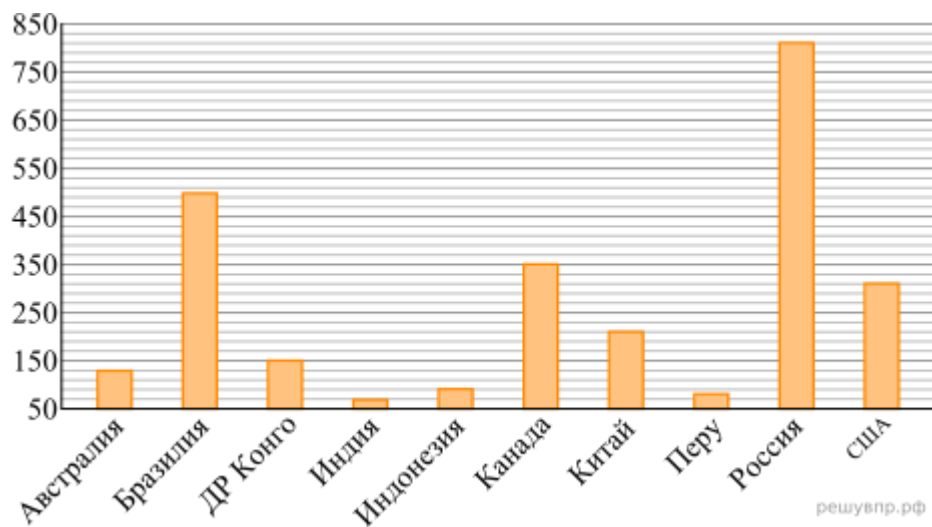
3. Тип 3 № [9926](#) 

Какое число надо вписать в окошко, чтобы равенство стало верным?

$$\boxed{} - 155 = 353 + 64$$

4. Тип 4.1 № [9610](#) 

На диаграмме показана площадь лесных территорий (млн га) десяти стран мира в 2015 году. Пользуясь этими данными, ответьте на вопросы.

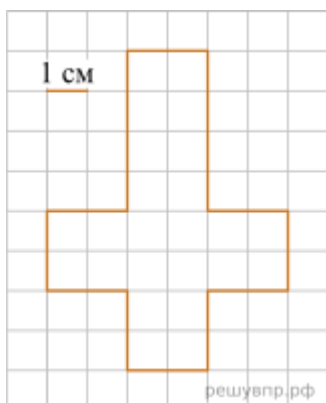


Сколько стран из названных в 2015 году имели площадь лесных территорий более 400 млн га?

5. Тип 4.2 № [9611](#) 📦

Россия занимала первое место по площади лесных территорий. Какая страна в 2015 году занимала пятое место в мире по площади лесных территорий?

6. Тип 5 № [12807](#) 📦



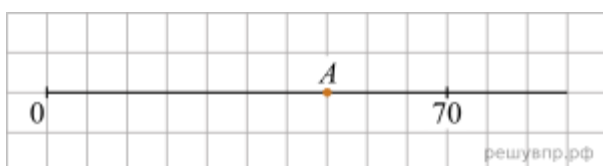
На клетчатой бумаге нарисована фигура. Сторона клетки равна 1 см.


Найди площадь этой фигуры. Ответ дай в кв. см.

В ответе писать единицы измерения не нужно.

7. Тип 6 № [12505](#) 📦

Найдите координату точки А, отмеченной на числовом луче.



8. Тип 9 № [12501](#) 

Число $С774$ делится на 2. Какая цифра должна стоять вместо буквы $С$? В ответ запишите одну подходящую цифру. (повторите признак делимости на 2)

9. Тип 10 № [12559](#) 

Установите соответствие между числами и утверждениями.

ЧИСЛА

А) $\frac{17}{24}$

Б) $\frac{78}{65}$

В) $\frac{7}{29}$


Г) $\frac{47}{120}$

УТВЕРЖДЕНИЯ

- 1) Число больше 0,25, но меньше 0,5.
- 2) Число меньше 0,25.
- 3) Число больше 1.
- 4) Число больше 0,5, но меньше 1.

В таблице под каждой буквой укажите номер утверждения.

А	Б	В	Г

10. Тип 12 № [9621](#) 

За 9 дней в типографии изготовили 11 700 сувенирных значков. Сколько значков изготовили в типографии за 4 дня? Запишите решение и ответ.

11. Тип 13 № [9832](#) 

Найдите значение выражения $122\,422 - 2128 \cdot (867 - 589) : 7$. Запишите решение и ответ.

12. Тип 15 № [12396](#) 

Одна сторона прямоугольника равна 7 см, его периметр — 34 см. Найдите площадь этого прямоугольника.

Биология

- 1.Выполнить карточку с заданиями с прошлого урока (для тех, кто еще не делал)
- 2.Задание на сегодня: изучить п.24 – «Искусственные сообщества». Ответить письменно в рабочей тетради на вопросы (с.143 –Проверь себя).
- 3.Обе работы принести на проверку на следующий урок – 21 апреля.

Русский язык

Тема урока: **Повторение по теме «Имя прилагательное»**

1. правило выучить, повторить морфологические признаки прилагательного
2. выполнить Упр 667, сделать морфологический разбор слова
НЕОПРЯТНЫЙ

Д/З упр 668